



# نمونه سؤالات:

## تریکو دوز

کد استاندارد: ۷۵۳۱۲۰۵۱۰۲۶۰۰۰۱

معاونت پژوهش، برنامه ریزی و سنجش مهارت

دفتر سنجش مهارت و صلاحیت حرفه ای

۱- برای دوخت جادکمه از چه نخي استفاده مي کنيم ؟

الف- عمامه نخي

ب- ابريشم تابيده

ج- قرقره هاي ابريشمي

د- قرقره هاي مرسريزه

۲- قديمي ترين مدل اتو..... .

الف- اتوي برقي ساده

ب- اتوي بخار

ج- اتوي برقي اتوماتيك

د- اتوي زغالي

۳- از شيرازه و مادگي براي چه مواردی استفاده مي شود؟

الف- بخيه

ب- دکمه

ج- کوك شل

د- جادکمه

۴- در چه صورتی زیر چرخ نخ جمع مي شود؟

الف- جنس پارچه بيش از حد نازک باشد

ب- جنس پارچه بيش از حد ضخيم باشد

ج- پس از نخ کردن سوزن بدون قراردادن پارچه چرخ را به کار انداختن

د- پارچه را زياد از حد کشيدن

۵- جمع و چروک کردن دوخت مربوط به کدام عيب است؟

الف- حرکت دادن درجه تنظيم دوخت

ب- نامناسب بودن ضخامت سوزن

ج- زياد بودن کشش نخ

د- نخ شدن نامناسب ماسوره

۶- برای دوخت کش از چه نوع ژتوني استفاده مي شود؟

الف- CM6

ب- CM8

ج- S1

د- S2

۷- در چه مواقعی پارچه با سرعت و يا آهسته از زیر پایه چرخ عبور مي کند؟

الف- ارتفاع پایه تنظيم نباشد

ب- دستگاه ماسوره کثيف باشد

ج- درجه دوخت تنظيم نباشد

د- کشش نخ زياد باشد

۸- کار پیش بر مربوط به چه قسمتی از چرخ خیاطی است؟

الف- کلید خاموش و روشن

ب- دندانه های متحرک

ج- درجه تنظیم نخ

د- هدایت کننده نخ

۹- دوخت با سوزن خیلی نازک برای پارچه های ضخیم.....

الف- باعث نخ کشش شدن پارچه می شود

ب- باعث پاره شدن نخ می شود

ج- باعث شکستن سوزن می شود

د- باعث جمع شدن پارچه می شود

۱۰- اگر هنگام دوخت نخ قرقره زیاد پاره شود علت چیست؟

الف- به علت سرعت زیاد چرخ

ب- به علت سرعت دوخت چرخ

ج- به علت سرعت کم چرخ

د- به علت کشش زیاد نخ

۱۱- اتوی برقی دارای روکشی از جنس ..... است.

الف- پلاستیکی

ب- مسی

ج- کروم

د- نیکل

۱۲- معمولا چه قسمت هایی از چرخ روغن کاری نمی شود؟

الف- قسمت های متحرک

ب- قسمت های داخلی

ج- همه قسمت ها

د- قسمت های غیرمتحرک

۱۳- نخ ماسوره به چه علت پاره می شود؟

الف- به سختی رد شدن نخ ماسوره

ب- عدم تناسب نخ ماسوره و نخ رو و متناسب نبودن سوزن با ماکو

ج- کج شدن سوزن

د- خراب بودن ماسوره

۱۴- شماره سوزن چرخ زیگزاگ دوزی چند است؟

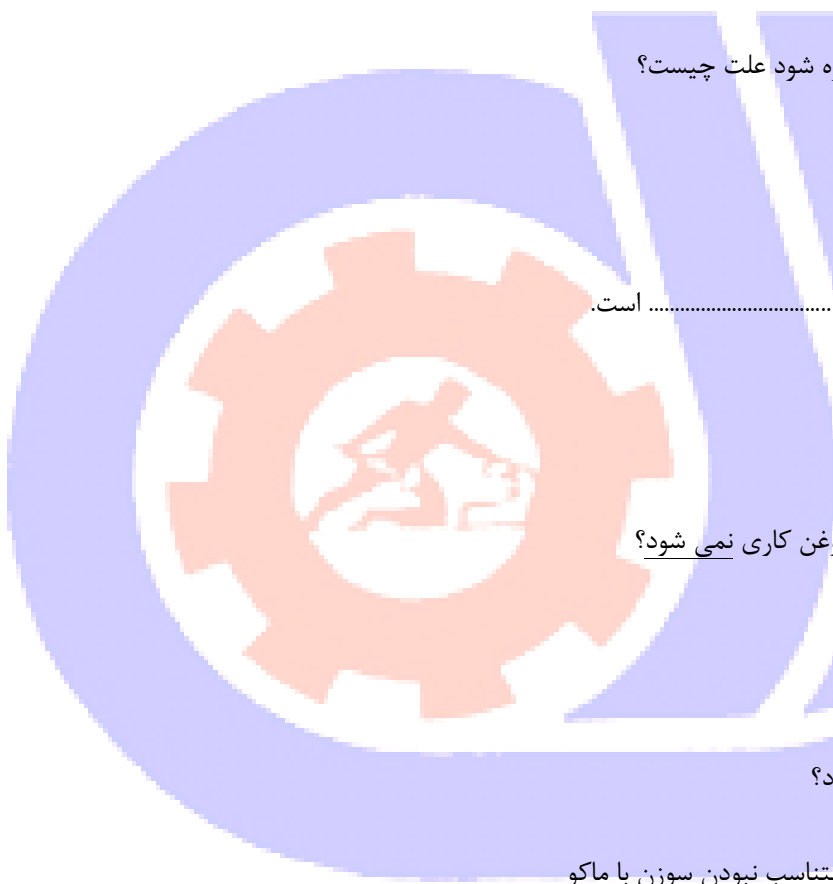
الف- شماره ۱۲ تا ۱۶

ب- شماره ۱۰

ج- شماره ۸

د- شماره ۱۲

۱۵- سوزن با چه وسیله ای در چرخ نصب می شود؟



الف- توسط پیچ مخصوص سوزن بند

ب- توسط پایه فشار چرخ

ج- توسط کمپلت بالای میله نگهدارنده

د- توسط اهرم نگهدارنده

۱۶- عرض چاک بلیطی تیشرت مردانه چند سانت است؟

الف- ۲ سانت

ب- ۶ سانت

ج- ۱ سانت

د- ۳ الی ۴ سانت

۱۷- سه محل مهم و اساسی برای قرار گرفتن جادکمه کدام است؟

الف- یقه/ کمر/ آستین

ب- یقه/ کمر/ سینه

ج- یقه/ کمر/ باسن

د- آستین/ یقه/ باسن

۱۸- مدل یقه به چه عواملی بستگی دارد؟

الف- بلندی یا کوتاهی گردن - پارچه و مدل

ب- مدل

ج- نوع الگو

د- کوتاهی گردن

۱۹- آرنج یک فرد نرمال در حال ایستاده در کجای بدن قرار دارد؟

الف- باسن

ب- شانه

ج- کمر

د- آکاردیوم

۲۰- کش قیطانی باریک برای چه کاری به کار می رود؟

الف- برای پلیسه

ب- چین کش کردن

ج- پیلی دادن

د- رگه دوزی

۲۱- در آستین معمولی تیشرت بدون چین در سرشانه حلقه آستین نسبت به حلقه بالاتنه باید.....

الف- برابر

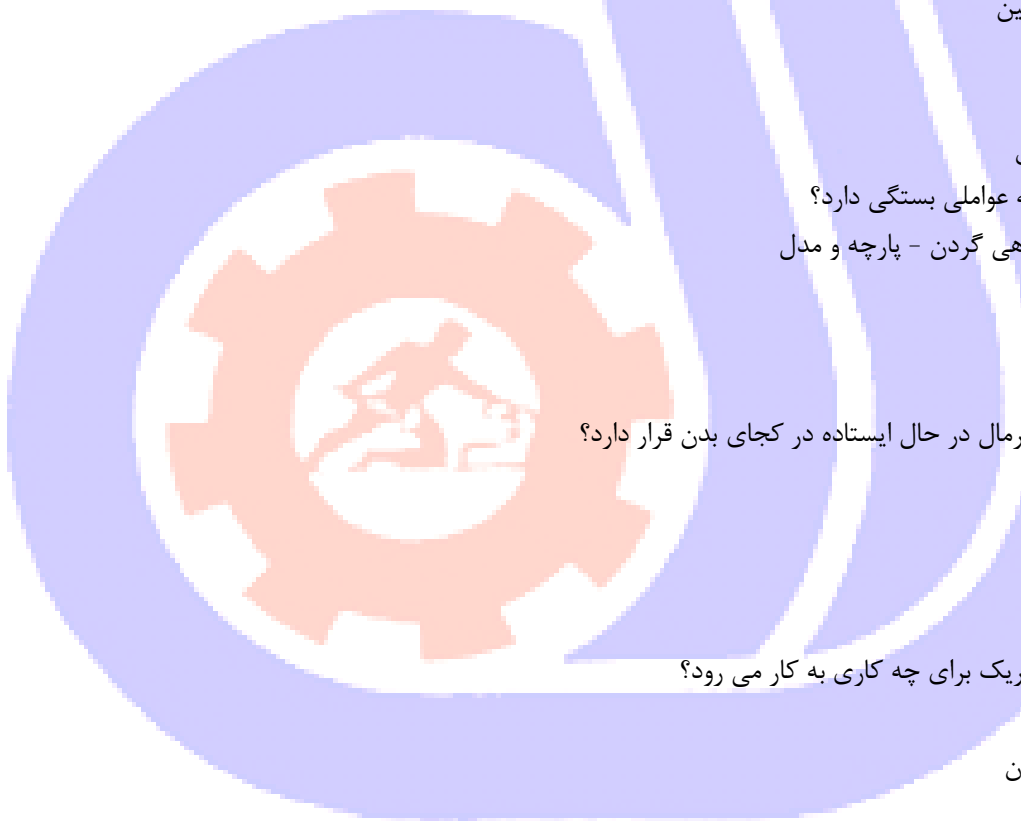
ب- آستین بزرگتر

ج- آستین ۴ سانت بزرگتر

د- آستین در قسمت جلو بزرگتر اما در پشت برابر

۲۲- اضافه جا دوخت در تیشرت معمولاً چه اندازه است؟

الف- ۲ سانت



ب- ۱ سانت

ج- ۳ سانت

د- ۲,۵ سانت

۲۳- روغنی که برای چرخ راسته دوز استفاده می شود شماره چند است؟

الف- شماره ۱

ب- شماره ۱۱

ج- شماره ۱۰

د- شماره ۱۵

۲۴- پارچه مناسب شلوار ورزشی کدام است؟

الف- تریکو و لاکرا

ب- پارچه نخ

ج- پارچه لمه

د- فرقی نمی کند

۲۵- میز اتوی چرخ کار کدام قسمت قرار داده شود؟

الف- سمت چپ میز چرخ

ب- سمت راست میز چرخ

ج- گوشه اتاق

د- کنار چرخ خیاطی

۲۶- دوخت مناسب پارچه های کشی ..... است.

الف- بخیه

ب- زیگزاگ

ج- کوردونه

د- سردوز

۲۷- خط شکست چیست؟

الف- از نقطه ای پارچه تا می خورد

ب- برگرد یقه

ج- هلال پشت یقه

د- حد فاصل فرم یقه

۲۸- معمولاً عرض دهنه جیب چه اندازه است؟

الف- مساوی با عرض دست + ۲

ب- ۱۰ تا ۱۶ سانت

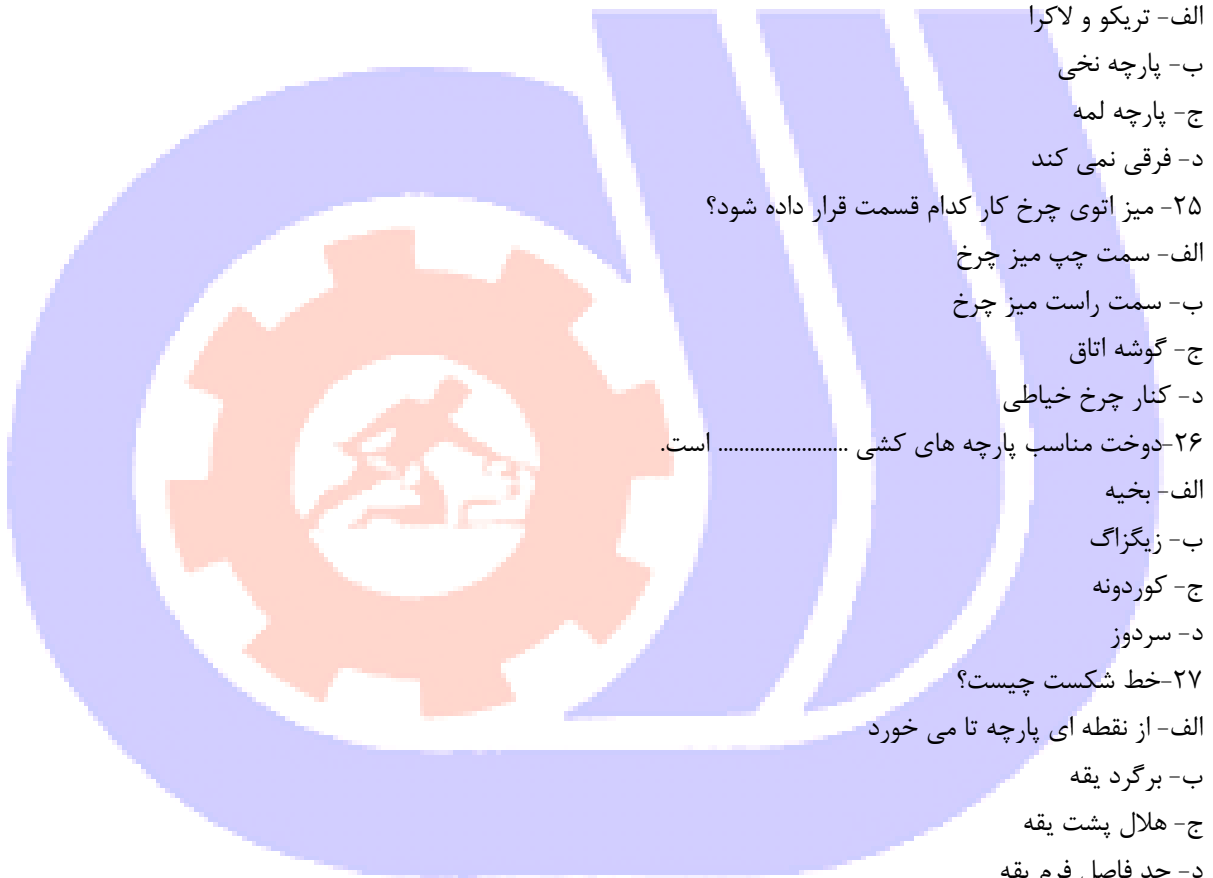
ج- ۲۰ سانت

د- برابر با دست

۲۹- برای تهیه بندینک چگونه عمل می کنیم؟

الف- از راستای پارچه

ب- از عرض پارچه



ج- از اربب پارچه به پهناى سه سانت

د- از اربب پارچه به پهناى چهار سانت

۳۰- خط مرکزی آستین چیست؟

الف- خط وسط یا قد آستین

ب- خط آرنج

ج- خط زیر بغل

د- خط کف حلقه

۳۱- پارچه مناسب دوخت سوشیرت کدام است؟

الف- لمه

ب- تریکو و مخمل

ج- پارچه های آهاردار

د- مخمل کبریتی

۳۲- جهت تمیز دوزی تیشرت معمولاً از چه دستگاهی استفاده می شود؟

الف- از زیگراگ

ب- از راسته دوز

ج- از ماشین اورلوک

د- از چرخ های خانگی

۳۳- معمولاً در رسم الگوی تیشرت چه قسمتی از اندام نشانگر سایز است؟

الف- دور باسن

ب- دور سینه

ج- دور گردن

د- تمام قد

۳۴- مناسب ترین دوخت برای لبه دوزی تریکو کدام است؟

الف- میان دوز

ب- سردوز

ج- چرخ های خانگی

د- راسته دوز

۳۵- الگوی آستین دراپه از چه نوع آستینی رولت می شود؟

الف- آستین کت

ب- آستین ساده

ج- آستین کاپشن

د- آستین فانتزی

۳۶- چرا برش مدل های یک طرفه باید روی پارچه انجام گیرد؟

الف- به علت مدل لباس

ب- به علت رنگ و جنس پارچه

ج- می توان به پشت پارچه الگو را قرار داد



د- اگر پشت پارچه باشد سمت مدل تغییر خواهد کرد

۳۷- نام دیگر آستین رگلان جدا چیست؟

الف- آستین همراه با یوگ

ب- رگلان کیمونو

ج- خود آستین

د- یوگ رگلانی

۳۸- روی اتویی از چه پارچه ایی بهتر است باشد؟

الف- پشمی

ب- فاستونی

ج- نایلونی

د- ململ

۳۹- کاغذ دوزی درز جهت.....

الف- دوخت پارچه های لطیف مثل ژرسه و حریر

ب- دوخت پارچه های خشک و آهاردار

ج- برای هر نوع پارچه می توان استفاده کرد

د- فقط برای لباس های شب کاربرد دارد

۴۰- نام دیگر ساق شلواری..... است.

الف- چارلی

ب- جین

ج- لکنیز

د- برمودا

۴۱- عرض کلاه بارانی چقدر است؟

الف- قد کلاه+ ۶ سانت

ب- قد کلاه+ ۲ سانت

ج- قد کلاه+ ۴ سانت

د- قد کلاه

۴۲- عرض الگوی یقه شکاری معمولاً..... است؟

الف- ۸ سانتی متر

ب- ۱۲ سانتی متر

ج- ۱۰ سانتی متر

د- ۱۴ سانتی متر

۴۳- یقه ژاپنی با چه فرمولی بدست می آید؟

الف-  $\frac{2}{1}$  دور گردن + ۱

ب-  $\frac{2}{1}$  دور گردن + ۲

ج-  $\frac{2}{1}$  دور گردن + ۳

د-  $\frac{2}{1}$  دور گردن



۴۴- آستین رگلان از نوع کدام آستین است؟

الف- فانتزی

ب- جدا

ج- دراپه

د- یک تکه

۴۵- یقه ها به طور کلی به چند دسته تقسیم می شوند؟

الف- ۲

ب- ۳

ج- ۴

د- ۵

۴۶- کیسه جیب پهلو را چگونه برش می دهیم؟

الف- به صورت اریب

ب- از راستا

ج- از دولا

د- از عرض

۴۷- برای بلوزهای تی شرت آستین را معمولاً..... می گیریم.

الف- تنگ تر

ب- گشادتر

ج- معمولی

د- فرقی ندارد

۴۸- سایز ۲۲ معادل با چه علامتی است؟

الف- S

ب- L

ج- M

د- XL

۴۹- اشل به معنی.....

الف- مل

ب- باسن

ج- گونیای خیاطی

د- شنل

۵۰- نام دیگر ویسگوز ریون چیست؟

الف- نخ عمامه ای

ب- نخ پنبه ای

ج- نخ معمولی

د- نخ ابریشم مصنوعی

۵۱- بهترین نوع مانکن کدام است؟





الف- پلاستیکی

ب- سیمی

ج- فلزی

د- پارچه ای

۵۲-سایز اپل به کدام عامل بستگی دارد؟

الف- جنس پارچه و ضخامت پارچه

ب- نوع پارچه و جنس و ضخامت پارچه

ج- ضخامت و طرح و نوع پارچه و جنس پارچه

د- جنس پارچه و نوع پارچه و طرح پارچه

۵۳-کدام گروه جزو چرخ های صنعتی هستند؟

الف- سردوز .راسته دوزی .میان دوز

ب- راسته دوزی .ساده .دیجیتالی

ج- ساده .میان دوز. همه کاره

د- همه کاره .ساده.سردوز

۵۴-چه نوع نخ برای دوخت تی شرت استفاده می شود؟

الف- عمامه

ب- نخ ابریشمی

ج- نخ پلی استیر

د- نخ ترویرا

۵۵-سوزن ژور دوزی مخصوص چه پارچه های می باشد؟

الف- لطیف کتانی و ارگانزا

ب- پشمی و ا سترچ

ج- کتانی و پشمی

د- ارگانزا و ا سترچ

۵۶-سوزن سر سوخته برای چه پارچه های مناسب است؟

الف- کش بافت

ب- ریون

ج- حریر

د- پشمی

۵۷-زمانی که سوزن درست جا نیفتاده باشد چرخ چه عیبی پیدا می کند؟

الف- نخه حلقه می شود

ب- نخ جمع و چروک می شود

ج- دوخت بیرون می ماند

د- نخ سوزن پاره می شود

۵۸-زمانی که نخ ماسوره بد پیچیده شود چرخ چه عیبی پیدا می کند؟

الف- نخه حلقه می شود



ب- نخ جمع و چروک می شود

ج- نخ سوزن پاره می شود

د- دوخت بیرون می ماند

۵۹- کدام دسته از چرخ ها دارای سرعت بیشتر می باشد؟

الف- دیجیتالی

ب- خانگی

ج- صنعتی

د- همه کاره

۶۰- یقه مخصوص بلوز شومیزیه کدام است؟

الف- یقه ملوانی

ب- یقه کراواتی

ج- یقه مردانه پایه جدا

د- یقه دلبری

۶۱- برای رسم الگوی پیراهن مردانه از چه نوع الگوی استفاده می شود؟

الف- از الگوی لباس های کشی

ب- الگوی با پن سر شانه

ج- الگوی بدون پنس

د- الگوی لباس دکلته

۶۲- آستین کیمونو جزو کدام دسته از آستین ها است؟

الف- آستین جدا

ب- آستین سرخود

ج- آستین پایه دار

د- آستین مچ دار

۶۳- کدام یک از گزینه های زیر جزو اسامی یقه فرنچ نمی باشد؟

الف- یقه چینی

ب- یقه سرداری و ایستاده

ج- سورچی

د- یقه آخوندی و قفقازی

۶۴- خطی که از یقه تا می خورد را چه می گویند؟

الف- خط طرح

ب- خط شکست

ج- خط فرم

د- خط یقه

۶۵- یقه گلابی آیا مناسب پیراهن مردانه می باشد؟

الف- یقه زنانه می باشد

ب- مناسب پیراهن مردانه نیست



ج - زیباست

د - حالت رسمی به لباس می دهد

66-چاک آستین مردانه در کدام قسمت از دست قرار می گیرد؟

الف -روی دست

ب -بالای آستین

ج -پشت دست

د -روی آرنج

67-برای وصل الگو به پارچه و ثابت نگه داشتن آن از کدام وسیله استفاده می کنیم؟

الف -سوزن ته گرد

ب -مداد

ج -خط کش

د -متر

68-نام تکه تزیننی در پیراهن مردانه چیست؟

الف -آستین

ب -یوک

ج -برش افقی

د -برشی ندارد

69-یوک چیست؟

الف -قطعه تزیننی

ب -برش

ج -منجوق

د -آستین دو تکه

70-کدام یقه جزو یقه ایستاده است؟

الف -گرد

ب -شیخی

ج -دلبری

د -شال

71-مناسب ترین دوخت جهت پارچه های لطیف چه نوع دوختی می باشد؟

الف -درز فرانسوی

ب -درز دو لبه

ج -درز مخفی


د -درز یک طرفه

72-بندینک را چگونه برش می کنند؟

الف -راه پارچه

ب -اریب پارچه

ج -طول پارچه



د- عرض پارچه

73- برای ساخت بندینک طول و عرض پارچه چه مقدار باشد؟

الف- طول 3 سانتی متر و عرض دلخواه

ب- عرض 3 سانتی متر و طول دلخواه

ج- طول و عرض دلخواه

د- بستگی به بندینک دارد

74- بیلیطی آستین مردانه کدام قسمت آستین قرار می گیرد؟

الف- پهلو

ب- پشت آستین

ج- روی آستین

د- بیلیطی ندارد

75- کدام قسمت لباس مردانه لایه می خورد؟

الف- جلو لباس

ب- یقه و مچ

ج- یوک

د- لایه نمی خورد

76- از این کوک برای علامت گذاری خطوط الگو روی پارچه استفاده می شود؟

الف- بخیه

ب- کوک شل

ج- کوک شلال

د- کوک اریب

77- چرت در چه درزهایی کاربرد دارد؟

الف- درز منحنی به سمت بیرون

ب- درز منحنی به سمت داخل

ج- درز مستقیم

د- درز زاویه دار

78- از پیچ رول در چه پارچه هایی استفاده می شود؟

الف- پارچه های ضخیم

ب- پارچه های لطیف

ج- پارچه های کتی

د- فاستونی

79- در این دوخت ابتدا درز سمت روی پارچه چرخ می شود سپس پارچه برگردانیده می شود و دوباره درز گرفته می شود؟

الف- دوبله شکسته

ب- درز فرانسوی

ج- دوبله خوابیده

د- درز ساده



80- در این نوع زیپ، دندانها به طرف داخل لباس است؟

الف - زیپ شلوار

ب - زیپ مخفی

ج - زیپ مجزا

د - زیپ دو طرفه

81- به طور کلی جیبها در لباسهای زنانه به چند دسته تقسیم می شوند؟

الف - یک دسته

ب - دو دسته

ج - سه دسته

د - چهار دسته

82- برای پیراهن مردانه از چه آستین استفاده می شود؟

الف - کتی

ب - رگلان

ج - کیمونو

د - شمیزیه

83- برای رسم الگوی اساس آستین دور حلقه آستین را چگونه اندازه گیری می کنند؟

الف - بامتر

ب - بامتر خوابیده

ج - بامتر ایستاده

د - با خط کش

84- دور حلقه آستین نسبت به دور حلقه آستین با لاتنه چه مقدار تفاوت دارد؟

الف 3- تا 4 سانتی متر بزرگتر است

ب 3- تا 4 سانتی متر کمتر است

ج 2- تا 3 سانتی متر بزرگتر است

د 2- تا 3 سانتی متر کمتر است

85- کدام یک از یقه های زیر جزو یقه های ساده خطی نیست؟

الف - یقه خشتی

ب - یقه گرد

ج - یقه هفت

د - یقه ب.ب

86- یقه گلایی جزو کدام دسته از یقه ها است ؟

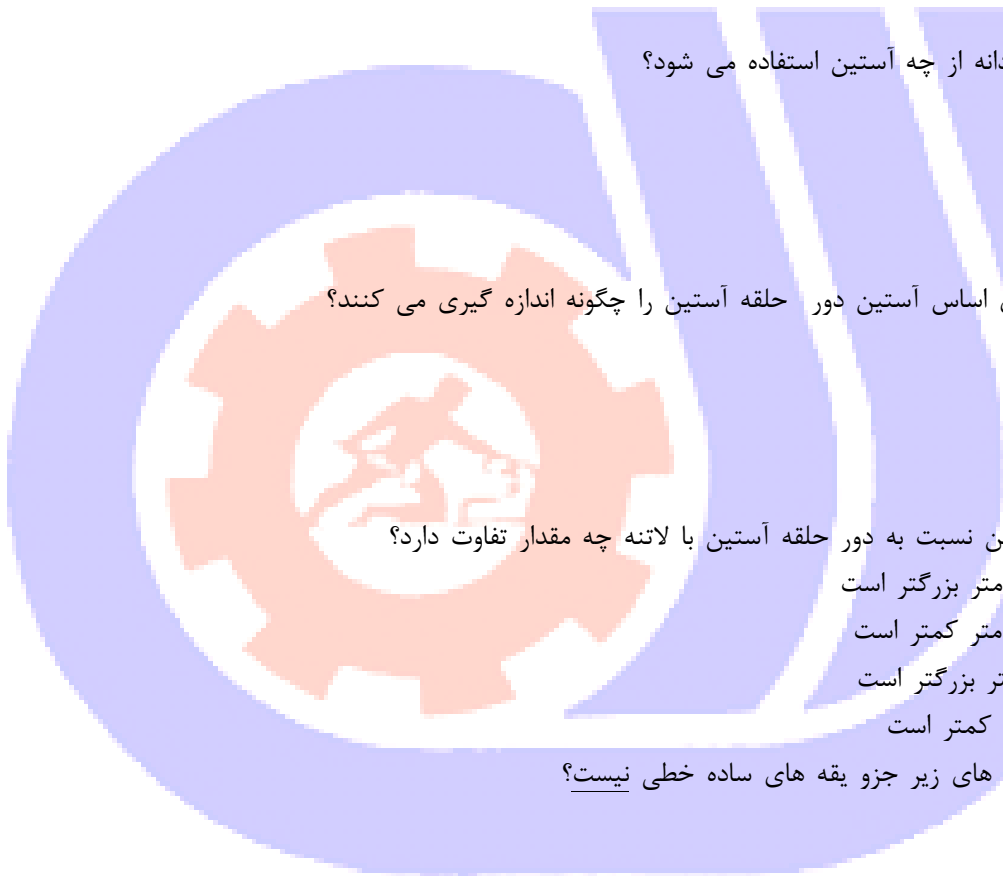
الف - یقه برگردان بدون پایه

ب - یقه برگردان پایه دار

ج - یقه ساده خطی

د - یقه ایستاده

87- یقه ملوانی جزو کدام دسته از یقه ها است ؟



الف - یقه برگردان بدون پایه

ب - یقه ایستاده

ج - یقه برگردان پایه دار

د - یقه ساده خطی

88- یقه آرشال و یقه شال به ترتیب جزو کدام دسته از یقه ها است ؟

الف - یقه برگردان بدون پایه - پایه دار

ب - یقه برگردان پایه دار - بدون پایه

ج - یقه برگردان پایه دار - یقه ایستاده

د - یقه ایستاده - یقه برگردان بدون پایه

89- با چه وسیله ای دگمه را اندازه گیری می کنید؟

الف - با متر

ب - نوری به عرض 0.5 سانتی متر

ج - نوری به عرض 1 سانتی متر

د - خط کش

90- اندازه دگمه خور در دگمه های ظریف چگونه محاسبه می شود؟

الف 1.2 - قطر دگمه 0.5 + تا 1 سانتی متر

ب 1.2 - قطر دگمه 1.5 + تا 1.8 سانتی متر

ج - قطر دگمه 1 + تا 3 سانتی متر

د - قطر دگمه 0.5 + تا 1 سانتی متر

91- در دگمه های افقی چه مقدار از اندازه ی جا دگمه را قبل از خط مرکزی جلو علامت گذاری می کنند؟

الف - قطر دگمه

ب 1.2 - پهنای جا دگمه

ج 2 - تا 3 میلی متر از پهنای جا دگمه

د 2 - تا 3 سانتی متر از پهنای جا دگمه

92- کدام یک از مکان های زیر جزو مکان اصلی جا دگمه به شمار نمی رود؟

الف - یقه

ب - سینه

ج - کمر

د - باسن

93- در یقه های گرد، خط مرکزی جلو 0.5 سانتی متر به سمت داخل الگو جا به جا می شود . این عمل چه تاثیری در لباس

دارد؟

الف - لباس را گشاد تر می کند

ب - کشیدگی لباس در قسمت یقه را از بین می برد

ج - لباس را تنگ تر می کند

د - لقی یقه را از بین می برد

94- برای اینکه سجاف در داخل لباس بهتر قرار گیرد چه می کنید؟

الف-0.2-سانتی متر از سر شانه سجاف جلو و پشت کم می کنیم

ب-0.5-سانتی متر از اطراف سجاف کم می کنیم

ج -سجاف را در سر شانه جلو و پشت کنار یکدیگر قرار می دهیم

د-0.2-سانتی متر به سر شانه سجاف جلو و پشت اضافه می کنیم

95-لقی یقه هفت چگونه از بین می رود؟

الف -با اوزمان دادن روی یقه

ب -با گرفتن پنس 1 سانتی متری روی پهلو

ج -بستن پنس یقه و انتقال به دیگر پنس ها

د -با اوزمان دادن روی پنس زیر سینه

96-در آستین رگلان ، نقطه موازنه جلوی آستین بالا تنه چه تغییری می کند؟

الف 3 -سانتی متر بالاتر می رود

ب 3 -سانتی متر پایین ترمی رود

ج 1.5 -سانتی متر بالاتر می رود

د 1.5 -سانتی متر پایین تر می رود

97-مهمترین عامل در ژورنال شناسی و طراحی چیست؟

الف -حذف پنس

ب -دوخت پنس ها

ج -بستن پنس ها

د -انتقال پنس

98-پنس فرانسوی کدام پنس می باشد؟

الف -تقاطع پهلو و حلقه گردن

ب -تقاطع پهلو و حلقه آستین

ج -تقاطع پهلو و خط کمر

د -تقاطع کمر و خط مرکزی جلو

99-پنس ها را در نوک سینه چند سانتی متر می توان جابه جا کرد؟

الف 1 -سانتی متر

ب 2 -تا 2.5 سانتی متر

ج 3 -تا 3.5 سانتی متر

د 1.5 -سانتی متر

100-به کدام قسمت از لباس کاپ می گویند؟

الف -کت

ب -خط زیر بغل

ج -بالای آستین

د -خط کمر

